

ШИФР И-8-2

участника школьного этапа всероссийской
олимпиады школьников по (предмет)

истории

в 2024-2025 учебном году

Внимание! Шифровать следует каждую
страницу Вашей письменной работы.

Ф. И. О. учащегося (в имен. падеже)

Вознюк Арина Александровна

Дата

рождения

24.04.2010

Образовательное учреждение (полное название)

МБОУ СОШ № 6

Город

г.т. Высокий

Класс

8б

Ф. И. О. учителя (полностью)

Вельня Евгения Викторовна

ШИФР Ц-8-2

ЗАДАНИЯ

**Время выполнения работы - 90 минут
Максимальное количество баллов – 100**

Задание 1. Отметьте правильный ответ. (Каждый правильный ответ 1 балл. Всего – 6 баллов)

1. Народное собрание, решавшее важнейшие вопросы, называлось:
 - 1) полудье 2) вервь 3) ополчение 4) вече
2. Что из перечисленного впервые появилось в правление Ивана IV?
 - 1) Земский собор 2) система кормления 3) Судебник 4) Софийский собор
3. Древнее название народа ханты и манси?
 - 1) коми и пермяки 2) остяки и вогулы 3) чудь и меря 4) нет верного ответа
4. Старейший город ХМАО?
 - 1) Югорск 2) Ханты-Мансийск 3) Сургут 4) Мегион
5. В каком городе в 1591г. умер малолетний царевич Дмитрий, возможный наследник русского престола?
 - 1) Ярославль 2) Углич 3) Москва 4) Владимир
6. Кто был современником Бориса Годунова был?
 - 1) Степан Разин 2) Людовик XVI 3) Карл Великий 4) патриарх Иов

1	2	3	4	5	6
4 →	1 →	2 →	3 →	2 →	4 →

Задание 2. (За каждое правильно сделанное задание -3 балла, при одной ошибке (также недостающей букве) -1 балл, при 2 ошибках -0) Всего-9 баллов)

2.1. Кто из перечисленных правителей Российского государства относится к династии Рюриковичей?

- 1) Алексей Михайлович 2) Юрий Долгорукий 3) Ярослав Мудрый 4) царевна Софья
- 5) княгиня Ольга 6) Борис Годунов

2.2. Кто из перечисленных ниже исторических деятелей был сторонником Реформации?

- 1) Фома Аквинский 2) Мартин Лютер 3) Жан Кальвин 4) Джордано Бруно
- 5) Игнатий де Лойола 6) Томас Мюнцер

2.3. Что из перечисленного имеет отношение к истории Югры?

- 1) нарты 2) вигвам 3) чум 4) байдарка 5) Норкин Григорий Иванович 6) Хабаров Ерофей Павлович

2.1	2.2	2.3
2, 3, 5 35	2, 3 16	5, 1 58

Задание 3. По какому историческому критерию образованы ряды? (Каждый правильный ответ 2 балла. Всего – 6)

3.1. Жан-Жак Руссо, Вольтер, Джон Локк, Шарль Луи де Монтескье

Философы

3.2. Финифть, лубок, зернь, скань

Ювелирные украшения; Владимир Мономах; походы против полчищ

3.3. 1497г., 1550г., 1581г., 1597г., 1649г.

события

Задание 4. Дайте краткое обоснование ряда (что объединяет перечисленные элементы с исторической точки зрения) и укажите, какой из элементов является лишним по данному основанию. (Всего – 3 балла)

Дионисий, Андрей Рублёв, Симеон Полоцкий, Феофан Грек

Симеон Полоцкий – лишним, т.к. все остальные иконописцы

Задание 5. Расставьте имена правителей в хронологической последовательности (За каждый правильный ответ 2 балла. Всего – 8)

- А. Алексей Михайлович
- Б. Дмитрий Донской
- В. Василий Шуйский
- Г. Иван Калита

1	2	3	4
Г	Б	В	А

857

Задание 6. Соотнесите даты и события. (За каждый правильный ответ 1 балл. Всего – 5)

А. 1147	1. «Стояние» на р. Угре
Б. 1223	2. Опричнина
В. 1480	3. Первое упоминание Москвы
Г. 1565-1572	4. Битва на р. Калке
Д. 1618	5. Деулинское перемирие с Речью Посполитой

А	Б	В	Г	Д
3	4	1	2	5

5

Задание 7. Установите соответствия между событиями (процессами) и их участниками (персоналиями) Нового времени истории России и Всемирной истории: к каждой позиции первого столбца подберите соответствующую позицию из второго столбца, после заполните таблицу ответов.

(За каждую верную позицию в задании – 1 балл. Всего – 10 баллов)

Персоналии	События (процессы)
А) Адашев Алексей	1. Маршал Советского Союза. В годы Великой Отечественной войны руководил многими военными операциями: под его руководством был предотвращен захват Ленинграда, выиграна битва за Москву, взят Берлин
Б) Иван Болотников	2. По соборному уложению крепостное состояние крестьян становилось наследственным, сыск беглых крестьян – бессрочным
В) Скопин-Шуйский М.В.	3. Казацкий атаман, руководитель крупного народного восстания в правление Алексея Михайловича
Г) Иван Фёдоров	4. Член Избранной рады. Руководил дипломатической подготовкой присоединения Казанского и Астраханского ханств
Д) Степан Разин	5. Князь, военный лидер второго ополчения
Е) Оливер Кромвель	6. Возглавил поход казаков в Сибирь, находился на службе у Строгановых
Ж) Ермак Тимофеевич	7. Полководец во времена Смутного времени. Боролся с польско-литовскими интервентами, выступавшими на стороне Лжедмитрия II
З) Дмитрий Пожарский	8. Казацкий атаман, возглавил в период Смутного времени восстание (1606 – 1607 гг.)
И) Алексей Михайлович	9. Первый русский книгопечатник. Издатель книги "Апостол" в 1564 г. – первой печатной книги в России
К) Жуков Георгий Константинович	10. Член Долгого парламента, пожизненный лорд-протектор

А	Б	В	Г	Д	Е	Ж	З	И	К
5 -	4 -	3 -	9 +	4 -	10 +	8 -	6 -	2 +	1 +



Задание 8. Рассмотрите иллюстрации и выполните задание. Внеси в таблицу название события, имя исторического деятеля, которые изображены на картинах. (По 2 балла за каждое задание. Всего – 15)



1.



3.


<p>2.</p> 	<p>4.</p> 	
№	Вопрос	Ответ
1	Укажите историческое событие, которое легло в основу представленной иллюстрации.	Варяжская ночь 35
2	Укажите имя исторического деятеля, изображённого на иллюстрации	Кардинал Ришелье 35
3	Укажите название и век, в котором сооружён данный памятник архитектуры.	Кремль. конец XV века. —
4	Укажите историческое событие, которое легло в основу представленной иллюстрации.	Восстание под предводительством Разина 35

Задание 9. Прочитайте отрывок из исторического источника и выполните задания. (5 баллов)

«Гетман говорил: «Господа полковники, есаулы, сотники, всё войско запорожское! Бог освободил нас из рук врагов нашего восточного православия, хотевших искоренить нас так, чтоб и имя русско не упоминалось в нашей земле... Об утеснениях от польских панов и вспоминать не надобно.. Великий царь христианский, сжалившись над нестерпимым озлоблением православной церкви Малой Руси, не презрел наших шестилетних молений, склонил к нам милостивое своё царское сердце и прислал к нам ближних людей с царской милостью. Возлюбим его с усердием».

1. О каком событии идёт речь в документе? *Войско Запорожское принято в Российское подд.*
2. В каком году оно произошло? *1654 год*
3. Назовите имя гетмана и имя православного царя, о которых говорится в документе. *Хмельницкий и Алексей Михайлович*
4. Какое событие стало последствием действий, о которых говорится в документе. *Восоединение Украины с Россией*

Задание 10. Решите кроссворд. (За каждую верную позицию в задании – 1 балл. Всего – 19 баллов)



Школьный этап всероссийской олимпиады школьников по истории
Ханты-Мансийский автономный округ – Югра, г. Мегион
2024-2025 учебный год
8 класс

7. Лучшая, отборная часть войска.

9. В христианской церкви – административно-территориальная единица во главе с епископом (архиереем).

11. В XIV-XVII вв. – вольные люди, работавшие по найму, несшие службу в приграничных районах.





14. Часть территории государства, не включенная в опричнину и управлявшаяся боярами.

По горизонтали	По вертикали
4. <u>опричнина</u>	1. <u>Армия</u>
5. <u>Магистрат</u>	2. <u>Барщина</u>
8. <u>Самодержавие</u>	3. <u>Странолюбие</u>
10. <u>острок</u>	6. <u>приказ</u>
12. <u>отречение</u>	7. <u>вооруж</u>
13. <u>ясак</u>	9. <u>сбор</u>
15. <u>ВЕЧЕ</u>	11. <u>казачество</u>
16. <u>челобитная</u>	14. <u>Земщина</u>
17. <u>местничество</u>	
18. <u>кормление</u>	
19. <u>оброк</u>	

Задание 11. Напишите точную дату начала и окончания Великой Отечественной войны (2 балла)

1941-1945 года.

Задание 12. Рассмотрите представленные иллюстрации и фотографии. Выберите те, на которых отражены события, связанные с Великой Отечественной войной. (За каждую верную позицию в задании – 2 балла. Всего – 12 баллов)

 <p>25</p> <p>1.</p>	 <p>2.</p>
 <p>3.</p>	 <p>25</p> <p>4.</p>

Школьный этап всероссийской олимпиады школьников по истории
Ханты-Мансийский автономный округ – Югра, г. Мегион
2024-2025 учебный год
8 класс



5.

25



6.



7.


25



8.



9.



10.

25

105

4/25