

ШИФР Т-8-4

участника школьного этапа всероссийской олимпиады школьников по (предмет)

технология

в 2023-2024 учебном году

**Внимание!** Шифровать следует каждую страницу Вашей письменной работы.

Ф. И. О. учащегося (в имен. падеже)

Бабаева

Алишан

Зауровна.

Дата

рождения 07.04.2009.

Образовательное учреждение (полное название) МБОУ СОШ №6

Город Альметьев

Класс 8Б



Ф. И. О. учителя (полностью)

Ильмова А.А.

ВСЕРОССИЙСКАЯ ОЛИМПИАДА ШКОЛЬНИКОВ  
ПО ТЕХНОЛОГИИ. 2023–2024 уч. г.  
НАПРАВЛЕНИЕ «КУЛЬТУРА ДОМА, ДИЗАЙН И ТЕХНОЛОГИИ»  
ШКОЛЬНЫЙ ЭТАП.  
7-8 КЛАСС

Общая часть

№ 1. (1 балл) Из предложенных рисунков выберите тот, на котором изображён 3D-принтер.

	
<p>А</p>	<p>Б</p>
	
<p>В</p>	<p>Г</p>
	
<p>Д</p>	<p>Е</p>

15

№ 2. (1 балл) Станция московского метро «Новослободская» украшена витражами, сделанными по эскизам художника Павла Корина. Витражи изготавливали в специальных мастерских, которые располагались в Риге. Большую часть композиции занимает рисунок из различных


цветов, растений и звёзд. В верхней части шести витражей вставлены небольшие медальоны с изображением людей различных профессий. Рассмотрите предложенный фрагмент витража.



Определите, представитель какой профессии на нём изображён. а) врач

- б) блогер
- в) агроном
- г) инженер
- д) писатель
- е) музыкант
- ж) строитель
- з) художник
- и) энергетик

№ 3. (1 балл) Рассмотрите приведённый рисунок. Определите, какая сельскохозяйственная культура изображена на нём.



- а) киви
- б) банан
- в) груша
- г) кокос
- д) слива
- е) яблоко
- ж) ананас
- з) виноград



№4. (1 балл) Установите соответствие этапов проектирования к видам деятельности:  
(установите соответствие)

Этапы проектирования		Вид деятельности	
1	Подготовительный этап	а)	Испытание изделия
2	Технологический этап	б)	Разработка нескольких вариантов изделия
3	Заключительный этап	в)	Окончательная обработка изделия
		г)	Организация рабочего места

08 1- 2, 2- 8, 3- 6.

№5. (1 балла) Пересадка комнатных растений – одна из основных мер для их нормального роста и хорошего самочувствия. В каком пункте описан правильный способ пересадки комнатного растения:

(отметьте знаком + правильный ответ)

а) Подготовить горшок для растения, насыпать дренажный слой, аккуратно вынуть растение из старого горшка, не стряхивать старую землю с корней, стараться сохранить целостность земляного кома вокруг корневой системы, поместить растение в новый горшок, насыпать землю, полить в соответствии с видом растения, поставить в тень на несколько дней;


б) Подготовить горшок для растения, насыпать дренажный слой, аккуратно вынуть растение из старого горшка и отряхнуть корни, осмотреть корни и удалить поражённые (если они есть), поместить растение в новый горшок, насыпать землю, слегка утрамбовать грунт, полить в соответствии с видом растения, поставить в тень на несколько дней;

в) Подготовить горшок для растения, насыпать дренажный слой, аккуратно вынуть растение из старого горшка, не стряхивать старую землю с корней, стараться сохранить целостность земляного кома вокруг корневой системы, поместить растение в новый горшок насыпать землю, полить в соответствии с видом растения, поставить пересаженный цветок на солнышко; +

г) Подготовить горшок для растения, насыпать дренажный слой, аккуратно вынуть растение из старого горшка и отряхнуть корни, поместить растение в новый горшок, насыпать землю, слегка утрамбовать грунт, полить в соответствии с видом растения, поставить на солнышко.

№6. (1 балл) Для приготовления различных блюд используют плоды различных растений. Какие растения изображены на картинках:

(выбери правильные ответы из предложенных вариантов)



А Олива



Б Корре

Варианты ответов: слива, кофе, олива, черешня.

№7. (1 балл) Что такое гидропоника: (отметьте знаком + правильный ответ)


- а) Наука, изучающая водных животных; †  
б) Метод выращивания морских животных;  
в) Метод выращивания растений без почвы;  
г) Наука, изучающая методы защиты от плохой погоды.

№8. (1 балл) О какой исчезнувшей профессии идет речь в отрывке стихотворения:

Простой звонок тебя порой  
Из дум выводит быстро: - Алло,  
ответьте же «Второй», -  
Твердит телепрожестка  
(впишите правильный ответ)

№9. (1 балл) Что означает данный символ по уходу за одеждой:

(отметьте знаком + правильный ответ)



- а) Стирать вручную при температуре не выше 40°;  
б) Сушить на солнце запрещено;  
в) Химическая чистка запрещена;  
г) Нельзя выкручивать (отжимать нельзя). †

№10. (2 балла) Для подарка Даша решила собрать набор из одной синей ручки, одного простого карандаша, одного ластика и одной линейки. После просмотра ассортимента интернет-магазина Даша выбрала следующие товары (см. таблицу покупок).

Таблица покупок

№	Название	Цена руб. за 1 шт.
1	Ручка шариковая синяя	60
2	Карандаш чёрнографитный Эко НВ заточенный	17
3	Ластик каучуковый прямоугольный	16
4	Линейка 30 см пластиковая	27

Определите, сколько можно купить таких наборов на 2 тысячи рублей. В ответ запишите только число.

16.



## Специальная часть

№1. (1 балл) Что в переводе с латинского означает «Декор»:

(отметьте знаком + правильный ответ)

а) «Присоединять»;

б) «Оформление»;

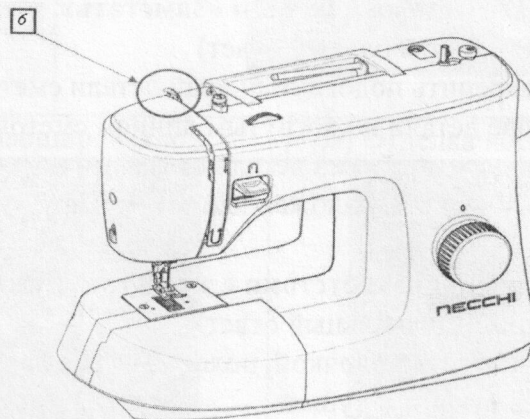
в) «Древний»;

г) «Украшать». +

№2. (1 балл) Как называется деталь швейной машины, обозначенная на рисунке цифрой «6»:

(напиши правильный ответ)

Запиши правильное название: Кружок



№3. (1 балл) Визуальное и тактильное свойство поверхности материала, которое передает информацию о внутренней структуре материала, называется: (отметьте знаком + правильный ответ)

а) Фактура;



б) Текстура;

в) Покрытие;

г) Узор.

№4. (1 балла) Угадай зашифрованный в ребусе термин, обозначающий физико-механическое свойство ткани. Запиши правильное название:

(напиши правильный ответ)



8,3,4,1,7,8

Ответ: Силкаемость

№5. (1 балл) Какое волокно при намокании теряет прочность: (отметьте знаком + правильный ответ)

- 15
- а) Шерсть;
  - б) Хлопок;
  - в) Вискоза; +
  - г) Полиэстер.

№6. (1 балл) У каких тканей свойство «сминаемость» проявляется очень слабо:

(отметьте знаком + правильные ответы)

- 15
- а) Лен;
  - б) Нейлон; +
  - в) Ацетат;
  - г) Микрофибра. +

№7. (1 балл) Что означает термин «Заметать»:

(отметьте знаком + правильный ответ)

- 15
- а) Временно закрепить подогнутый край детали сметочными стежками; +
  - б) Соединить две детали по вогнутым линиям сметочными стежками;
  - в) Закрепить подогнутый срез детали стежками постоянного назначения;
  - г) Соединить две детали, наложенные одна на другую, стежками временного назначения.

№8. (1 балл) Как, в соответствии с этикетом, нужно кушать маленькие печеные пирожки:

(отметьте знаком + правильный ответ)

- 05
- а) Аккуратно наколоть вилочкой, положить себе на тарелку и кушать с помощью вилки и ножа;
  - б) Можно взять руками и кушать;
  - в) Взять в бумажную салфетку и кушать, не вынимая из салфетки; +
  - г) Взять пирожок специальными щипцами, положить себе на тарелку и кушать вилкой и ножом.

№9. (1 балл) Какой вид теста можно приготовить по данному рецепту: 3 штуки сырых куриных яйца, 4 столовой ложки сахарного песка, 3-5 столовых ложек муки. (отметьте знаком + правильный ответ)




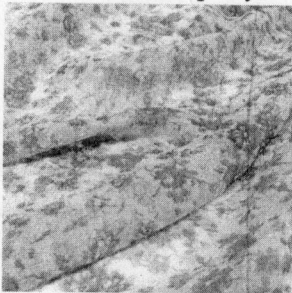


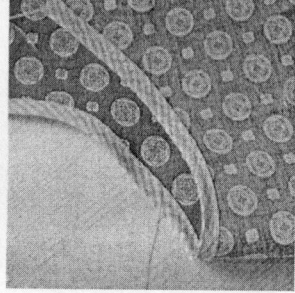


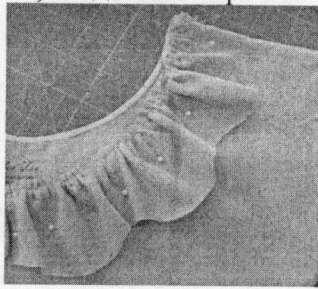
- 05
- а) Бисквитное тесто;
  - б) Дрожжевое тесто; +
  - в) Слоеное тесто;
  - г) Песочное тесто.

№ 10. (1 балл) Вам предстоит изготовить платье для младшей сестры. Для этого платья используется выкройка плечевого изделия с цельнокроеным рукавом. Платье должно быть изготовлено из хлопчатобумажной ткани с мелким цветочным рисунком и иметь декоративную отделку. Подберите соответствующие материалы (ткань для изготовления платья), а также варианты декоративной отделки, которые возможно использовать при изготовлении платья:

(отметьте знаком + правильный ответ)

1. Подберите варианты тканей и варианты декоративной отделки



<p>а) Бязь однотонная</p> 	<p>б) Фланель</p> 	
<p>в) Шевиот</p> 	<p>г) Бязь с мелким рисунком †</p> 	
<p>д) Отделка кружевом †</p>	<p>е) Гильоширование</p>	<p>† ж) Отделка косой бейкой</p>
		
<p>з) Вышивка</p> 	<p>и) Батик</p> 	<p>† к) Отделка оборками</p> 

11. (5 баллов) Творческое задание. Выберите наряд для летнего отдыха


- а) платье;
- б) туника.

Для выбранного фартука выполните следующие задания.

- 11.1. Выполните эскиз модели.
- 11.2. Перечислите материалы, которые необходимы для его изготовления.
- 11.3. Какие инструменты и оборудование потребуются?
- 11.4. Предложите способы декорирования изделия

15





45

- а) Ткань, нитки, косая бейка.
- б) ножницы, иглы, канцелярские булавки, мел, швейная машинка, утюг, мадильная доска.
- аппликация, кружево

Умно 175  
65% 175 -