

ШИФР 0908

участника школьного этапа всероссийской олимпиады школьников по (предмет)

обществознание

в 2023-2024 учебном году

Внимание! Шифровать следует каждую страницу Вашей письменной работы.

Ф. И. О. учащегося (в имен. падеже)

Стелука Екатерина Станиславовна

Дата

рождения 23.06.2008

Образовательное учреждение (полное название) МБОУ "СОШ №6"

Город Мешов

Класс 9а

Ф. И. О. учителя (полностью)

Гельма Евгения Викторовна

Время выполнения 90 минут. Максимум баллов за работу - 100

10

ЗАДАНИЕ 1. Выполните тестовые задания

1.1 Экономика — это

- а) наука о законах развития хозяйства и способах его рационального ведения
- б) правила ведения хозяйства
- в) хозяйство конкретной страны, включающее определенные отрасли и виды производства
- г) все перечисленное

1.2. Разделение общества на различные социальные группы в соответствии с их положением в социальной иерархии – это:

- а) социальная стратификация
- б) социальная мобильность
- в) социальная интеграция
- г) социальная коммуникация
- д) социальная дифференциация

1.3 Федеративное устройство государства предполагает

- а) верховная власть принадлежит единоличному правителю — монарху
- б) относительную правовую независимость административных единиц
- в) управлением государства только из центра, которое делегирует полномочия субъектам и контролирует их полный суверенитет административных единиц, которые делегируют полномочиями им же центру вопросы только культурного характера

1.4 Доход семьи – это:

- а) Приобретенная иностранная валюта
- б) Купленные в течение года товары и оплаченные услуги
- в) Поступления денежных и натуральных средств за определенный промежуток времени
- г) Полученное наследство

1.5 Верно ли, что:

- 1) одной из причин возникновения государства является возникновение неравенства;
- 2) государство вырабатывает и контролирует выполнение моральных правил?

- а) верно только а
- б) верно только б
- в) верны оба суждения
- г) оба суждения неверны

1.6 Дети, молодежь, мужчины — это социальные общности, выделяемые по

- а) территориальному признаку
- б) этническому признаку
- в) демографическому признаку
- г) профессиональному признаку

1.7 Альтернативная стоимость – это

- а) Средство удовлетворения потребностей
- б) процесс создания экономических благ
- в) цена потери, на которую идет потребитель
- г) всё полезное для человека.

1.8 Что не характеризует научное познание?

- а) выдвижение гипотез
- б) эмоциональность
- в) обобщение в понятиях
- г) эксперимент

1.9 Что из перечисленного относится к предписанному статусу?

- а) уровень доходов
- б) уровень образования
- в) национальная принадлежность
- г) род занятий

1.10. Форма правления, при которой монарх «царствует, но не правит».

- а) абсолютная монархия
- б) ограниченная монархия
- в) парламентская республика
- г) президентская республика

ЗАДАНИЕ 2.

10 *88* Что объединяет понятия, образующие каждый из представленных рядов? Дайте краткий ответ.

1. Мотив, выдвижение цели, выбор средств, процесс, результат. деятельность *до*
2. Необходимость в жилье, автомобиле, мебели, одежде, деньгах потребностями *до*
3. Территория, суверенитет, публичная власть, законотворчество, взимание налогов, гражданство. государство
4. Вид деятельности, условный характер, направлен на процесс удовольствия, вырабатывает физические и интеллектуальные навыки и социальные компетенции игра *до*
5. Форма государственного устройства, форма правления, политический режим форма государства *до*
признаки *до*

ЗАДАНИЕ 3. Соотнесите понятие и их определения

10 *10*

	понятия		определения
1.	Воля <i>и</i> →	а	Истребление отдельных групп населения по расовым национальным, религиозным политическим и иным мотивам.
2.	Производство <i>д</i> →	б	Совокупность людей, объединённых исторически обусловленными формами совместной жизни и деятельности.
3.	Потребности <i>ё</i> →	в	Совокупность избирателей конкретного избирательного округа
4.	Классификация <i>з</i> →	г	Преследование отдельных групп населения по расовым мотивам.
5.	Нация <i>е</i> →	д	Процесс создания материальных благ, предназначенных для продажи
6.	Общество <i>б</i> →	е	Исторически сложившаяся группа людей, обладающая государственностью.
7.	Суверенитет <i>ж</i> →	ё	Все то, в чем нуждается человек
8.	Электорат <i>в</i> →	ж	Полная независимость государства от других государств в его внутренних делах и внешних отношениях.
9.	Геноцид <i>а</i> →	з	Разбиение множества объектов на подмножества по определённым признакам
10.	Расизм <i>з</i> →	и	Способность к выбору цели деятельности и внутренним усилиям, необходимым для её осуществления

ЗАДАНИЕ 4. Решите экономическую задачу.

10 *88*

58 **4.1** Гражданка Соколова купила купальник. На следующий день муж Соколовой подарил ей к 8 Марта такой же купальник. Через два дня после покупки Соколова пришла в магазин и, предъявив кассовый чек, попросила обменять купальник на другой, сообщив, что она даже не успела его надеть. Продавец сказала, что такой товар обмену не подлежит. Правомерен ли отказ продавца? Отказ правомерен, т.к. Закон о правах потребителей *до* оглашает список товаров, не подлежащих возврату. (средства личной гигиены)

25 **4.2.** В стране Нетландии курьер в среднем получает 10 талеров в месяц, а врач в среднем 100 талеров при одинаковом количестве часов работы в месяц. Благодаря каким факторам зарплаты врача и курьера различны? Назовите два таких фактора. Дайте объяснение приведённой ситуации
1) зарплата зависит от образования человека. Врач должен учиться чтобы занять эту должность, а курьером может стать каждый, не имея образования.
2) престиж работы также обуславливает зарплату. Профессия считается престижной, т.к. врачи лечат от болезней и много учатся.

ЗАДАНИЕ 5. Заполните таблицу

105

Производство	Распределение	Обмен	Потребление
29	56	48,3	14,70

Основные сферы экономики

1. Посещение музея
2. Пошив масок
3. Приобретение абонемена в фитнес зал
4. Поездка на автобусе
5. Составление бюджета государства.
6. Расчет остатка стипендии на неделю.
7. Оплата учебы в колледже.
8. Приобретение курсов верховой езды
9. Выпечка тортов на заказ.
10. Полтора часовое посещение бассейна.

10 ЗАДАНИЕ 6.

Вставьте в текст вместо пропусков соответствующие слова и сочетания слов из приведенного в таблице списка. Впишите в текст порядковые номера выбранных вами слов и сочетаний. Обратите внимание: в списке слов и сочетаний слов больше, чем пропусков в тексте!

«___ (А) — это форма правления, при которой глава государства является ___ (Б) и сменяемым, а его власть считается производной от избирателей или представительного органа. Если ___ (В) избирается независимо от парламента, является главой государства и правительства, то данная форма правления определяется как ___ (Г) республика. Президент сам назначает ___ (Д) и руководит его деятельностью. В данной республике президент не может распустить ___ (Е) и его нижнюю палату, не может вынести вотум недоверия. Парламент имеет возможность ограничивать действия президента и правительства с помощью принимаемых ___ (Ж) и через утверждение бюджета, а в ряде случаев может отстранить президента от должности (нарушение ___ (З), преступление)»

Слова в списке даны в именительном падеже. Каждое слово (словосочетание) может быть использовано только один раз. Выбирайте последовательно одно слово за другим, мысленно заполняя каждый пропуск. Обратите внимание на то, что в списке слов больше, чем вам потребуется для заполнения пропусков.

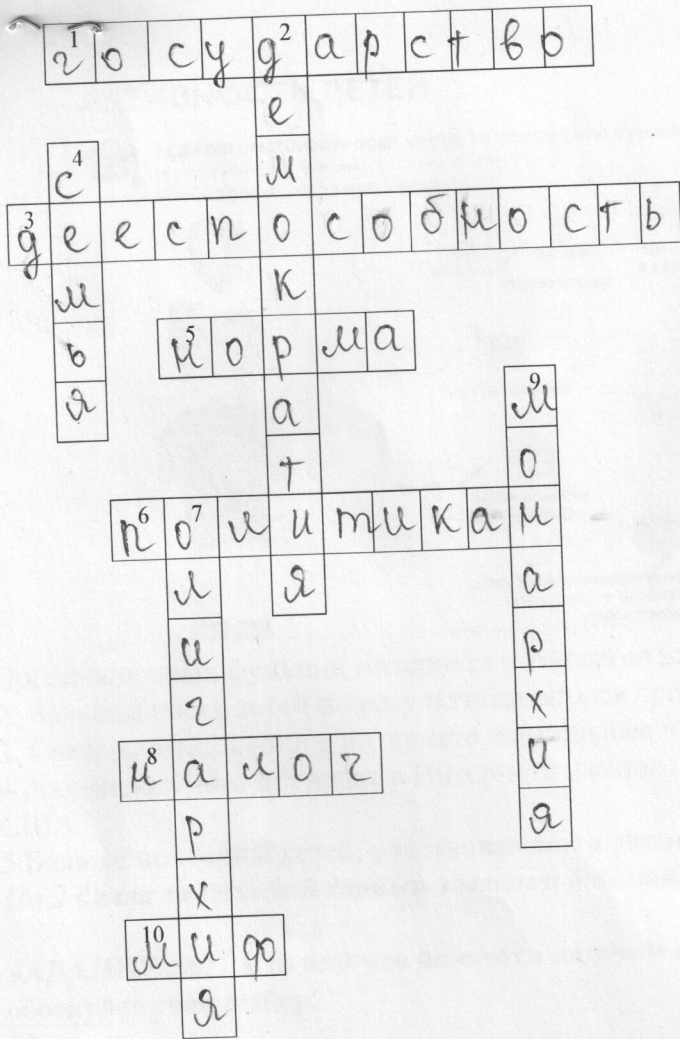
Список терминов:

1) закон	2) президент	3) республика
4) народный	5) парламент	6) конституция
7) правительство	8) выборный	9) президентская

А	Б	В	Г	Д	Е	Ж	З
3	8	2	9	7	5	1	6

10 ЗАДАНИЕ 7. Решите кроссворд.

1. Аппарат принуждения, необходимый для поддержания порядка в обществе.
2. Народовластие.
3. Способность своими действиями осуществлять права и нести обязанности.
4. Группа живущих вместе родственников, ведущих общее хозяйство.
5. Правила поведения людей в обществе, закреплённые в законах.
6. Человек, использующий занятие политикой в корыстных целях.
7. Вид автократии, при котором государственная власть находится в руках несменяемой малочисленной группы лиц.
8. Установленный законом платёж в пользу государства.
9. Власть одного человека, передающаяся по наследству.
10. Древнее народное сказание, передающее представления людей о происхождении мира, явлений природы, о богах и героях.



108

ЗАДАНИЕ 8. Решите правовые задачи.

10 50

8.1 Ирина Г. Вышла из декретного отпуска по уходу за ребенком, в центре занятости ей предложили вакансию парикмахера. Придя на собеседование в организацию, работодатель отказал ей в трудоустройстве, аргументируя это тем, что у Ирины маленький ребенок и возможны частые больничные, что для его предприятия будет невыгодным.

Правомерен ли отказ, данный Ирине? Обоснуйте ответ.

Отказ правомерен. Для работодателя (бизнесмена) сотрудник является тем, кто будет препятствовать получению прибыли, т.к. не имея защиты данному специалисту, не все клиенты смогут получить услугу.

8.2 Витя нелестно высказался в адрес своего одноклассника в сети интернет. Он оклеветал его и выражался нецензурными словами. **Какую юридическую ответственность будет нести Витя и какое наказание ему могут назначить?**

За оскорбление Витя может получить штраф или ограничение свободы. Административная ответственность.

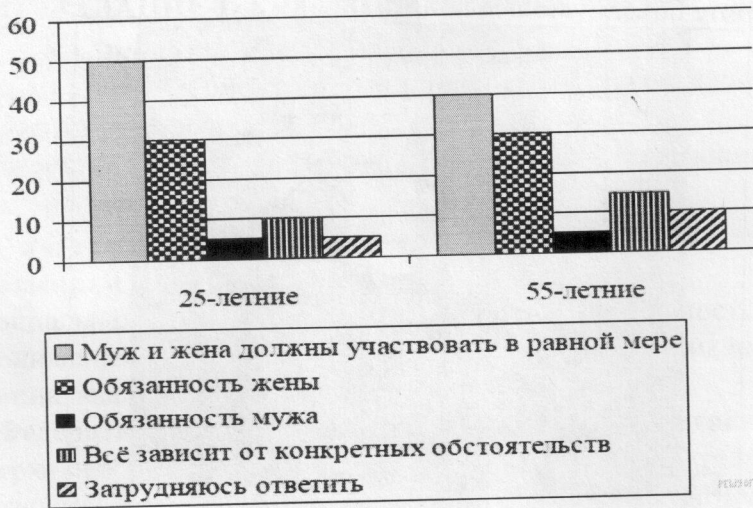


105

ЗАДАНИЕ 9. Проанализируйте диаграмму. В каждом случае Сформулируйте

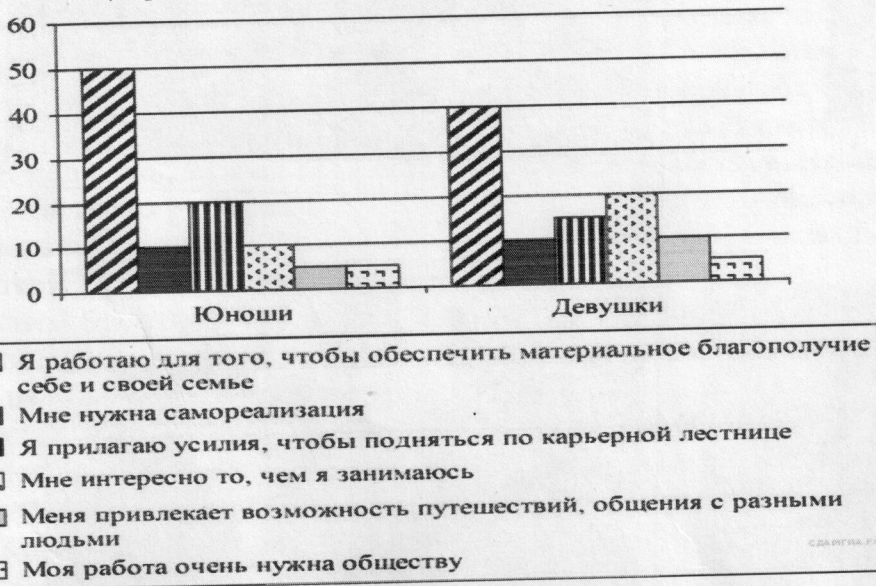
одному выводу: а) о сходстве и б) о различии в позициях групп опрошенных. Выскажите предположение о том, чем объясняется: а) сходство; б) различие.

9.1. Ученые опросили 25-летних и 55-летних граждан страны Z. Им задавали вопрос: «Как Вы считаете, чья обязанность вести домашнее хозяйство?» Результаты опросов (в % от числа отвечавших) приведены на диаграмме.



а) Большинство 25 и 55-летних считают, что муж и жена должны равномерно участвовать в хозяйстве. На 2-ом месте у тех и у тех жема должна сама вести хозяйство. б) 25-летние больше считают, что это обязанность обоих. а) жема должна вести хоз. т.к. всегда присутствует патриархальные семьи. б) среди молодежи равноправие.

9.2 Ученые опросили 23-летних работающих юношей и девушек страны Z. Им задавали вопрос: «Зачем Вы работаете, какова Ваша трудовая мотивация?». Полученные результаты (в % от числа опрошенных) представлены в виде диаграммы.



а) У тех и у тех больше всего % в варианте «я работаю ради благополучия семьи». б) Девушки прилагают больше усилий для поднятия в карьере. Юноши больше работают для благополучия семьи. а) Благополучие семьи является самым важным признаком. б) Девушки меньше юношей работают ради благополучия семьи, т.к. считается, что мужчина в 1-ую очередь добытчик, а женщины предназначены для ведения хозяйства.

Всего 138.

ЗАДАНИЕ 10.



10 88.

Ниже представлены серии изображений. Максимальное количество – 10 баллов.

Все иллюстрации объединяет одно социальное явление (процесс).

А) Назовите социальное явление (процесс).

Б) Распределите изображения на три группы в соответствии с разновидностями названного явления (процесса). И назовите каждую группу (подберите объединяющее понятие).



А) выборы *88*
 Б) 1- выборы (ВБ) *88* 2- революция (АЕ) 3- кронация (АГ) *88*