

ШИФР 0-10-1

участника школьного этапа всероссийской
олимпиады школьников по (предмет)

ОбиЗР

в 2024-2025 учебном году

Внимание! Шифровать следует каждую
страницу Вашей письменной работы.

Ф. И. О. учащегося (в имен. падеже)

Сергей

Андрей

Викторовна

Дата

рождения 22.11.2008

Образовательное учреждение (полное название)

МБОУ «СОШ № 6»

Город Менюж

Класс 10

Ф. И. О. учителя (полностью)

Васильев Михаил

Иванович

025

0-10-1

Задание							Общее количество баллов
1	2	3	4	5.1	5.2	ТЕСТ	110

ТЕОРЕТИЧЕСКИЙ ТУР
средняя возрастная группа (10-11 классы)

Уважаемый участник олимпиады!

Вам предстоит выполнить теоретические (письменные) и тестовые задания.
Время выполнения заданий теоретического тура 90 минут.

Выполнение теоретических (письменных) заданий целесообразно организовать следующим образом:

- не спеша, внимательно прочитайте задание и определите, наиболее верный и полный ответ;
- отвечая на теоретический вопрос, обдумайте и сформулируйте конкретный ответ только на поставленный вопрос;
- если Вы отвечаете на задание, связанное с заполнением таблицы или схемы, не старайтесь детализировать информацию, вписывайте только те сведения или данные, которые указаны в вопросе;
- особое внимание обратите на задания, в выполнении которых требуется выразить Ваше мнение с учетом анализа ситуации или поставленной проблемы. Внимательно и вдумчиво определите смысл вопроса и логику ответа (последовательность и точность изложения). Отвечая на вопрос, предлагайте свой вариант решения проблемы, при этом ответ должен быть кратким, но содержать необходимую информацию;
- после выполнения всех предложенных заданий еще раз удостоверьтесь в правильности выбранных Вами ответов и решений.

Выполнение тестовых заданий целесообразно организовать следующим образом:

- не спеша, внимательно прочитайте тестовое задание;
- определите, какой из предложенных вариантов ответа наиболее верный и полный;
- напишите букву, соответствующую выбранному Вами ответу;
- продолжайте, таким образом, работу до завершения выполнения тестовых заданий;
- после выполнения всех предложенных заданий еще раз удостоверьтесь в правильности ваших ответов;
- если потребуется корректировка выбранного Вами варианта ответа, то неправильный вариант ответа **зачеркните крестиком**, и рядом напишите новый.

Предупреждаем Вас, что:

- при оценке тестовых заданий, где необходимо определить один правильный ответ, 0 баллов выставляется как за неверный ответ, а также, если участником отмечены несколько ответов (в том числе правильный), или все ответы;
- при оценке тестовых заданий, где необходимо определить все правильные ответы, 0 баллов выставляется, если участником отмечено большее количество ответов, чем предусмотрено в задании (в том числе правильные ответы) или все ответы.

!ВСЕ ЗАДАНИЯ ВЫПОЛНЯЮТСЯ НА БЛАНКЕ ЗАДАНИЙ!

Задание теоретического тура считается выполненным, если Вы вовремя сдаете его членам жюри. Максимальная оценка - 110 баллов.

Желаем вам успеха!

**Школьный этап всероссийской олимпиады школьников по ОБЗР
Ханты-Мансийский автономный округ – Югра, г. Мегион
2024-2025 учебный год
10-11 класс**

Задание №3. Заполните таблицу. Поставьте + в ту колонку, которая соответствует съедобности или несъедобности растений/грибов.

<u>Несъедобное</u>	<u>Название</u>	<u>Съедобное</u>
+ 2	1. Бузина красная	
	2. Подберезовик	+ 2
+ 2	3. Паутинник красивейший	
	4. Белый гриб	+ 2
+ 2	5. Говорушка	
	6. Ежевика	+ 2
+ 2	7. Сатанинский гриб	
+ 2	8. Снежнаягодник	
	9. Ирга	+ 2
	10. Барбарис	+ 2
Каждый правильный ответ 2 балла. Сумма баллов 20.		

Задание №4. Заполните пропуски.




По команде о вызове военнослужащего к командиру («Рядовой Иванов, КО МНЕ») военнослужащий сделал 30 шага от первой шеренги прямо, на ходу поворачивается в сторону начальника и красным путем стрелковым шагом подходит (подбегает) к начальнику и докладывает о прибытии: «Товарищ лейтенант. Рядовой Иванов по вашему приказу прибыл». При выходе военнослужащего из стрелковой шеренги он слегка накладывает руку на плечо впереди стоящего военнослужащего, который делает шаг вперед и, не приставляя левой ноги, шаг в сторону, пропускает выходящего из строя военнослужащего, затем становится на его место. При выходе военнослужащего из впереди стоящей шеренги его место занимает стоящий за ним военнослужащий.

Каждое верное вписанное слово 1 балл. Сумма 10 баллов.



**Школьный этап всероссийской олимпиады школьников по ОБЗР
Ханты-Мансийский автономный округ – Югра, г. Мегион
2024-2025 учебный год
10-11 класс**

Тестовая часть


Выберите один вариант ответа:

№	Вопрос	Варианты ответа	Ответ
1.	Как определить стороны света, находясь в лесу безлунную ночь?	А. По часам Б. По ЛЭП В. По полярной звезде Г. По ветру	В 1
2.	Комплекс активных целесообразных действий, направленных на сохранение жизни в условиях автономного существования после наступления какого-нибудь непредвиденного случая, называется?	А. Акклиматизация Б. Выживание В. Мотивация Г. Мобилизация	Б 1
3.	Определите номер единой дежурно-диспетчерской службы	А. 911 Б. 112 В. 101 Г. 777	В 0
4.	Основная форма тактических действий войск, авиации и сил флота, называется?	А. Бой Б. Отступление В. Переформирование Г. Наступление	Г 0
5.		А. Движение на СИМ запрещено Б. Движение на самокате запрещено В. Начало полосы движения для СИМ Г. Окончание полосы движения для СИМ	В 0
6.	 Какой строевой приём выполняет солдат на рисунке?	А. Военское приветствие в движении Б. Отдача чести В. Поворот направо Г. Встреча караула слева	Б 0
7.	 Какой тип дрона представлен на рисунке?	А. Гибридный Б. С неподвижным крылом В. Роторный Г. Реактивный	А 0

**Школьный этап всероссийской олимпиады школьников по ОБЗР
Ханты-Мансийский автономный округ – Югра, г.Мегион
2024-2025 учебный год
10-11 класс**

8.	Состояние полного физического, душевного и социального благополучия, а не только отсутствие болезней и физических дефектов, называется	А. ЗОЖ Б. Здоровье В. Самочувствие Г. Настроение	Б 1.
9.		А. Брод Б. Подтопление В. Рядом место остановки Г. Участок перекрестка	А 0
Выберите все правильные ответы:			
10.	Военнослужащие обязаны выполнять воинское приветствие, отдавая дань уважения:	А. Могиле Неизвестного Солдата Б. Государственному флагу Российской Федерации В. Гражданскому населению Г. Стелам и бюстам военачальников	АБ 1.
11.	 Выберите название и вид знака	А. Дети Б. Пешеходный переход В. Беговая дорожка Г. Приоритета Д. Ограничивающий Е. Предупреждающий	АЕ 2.
12.	Выберите дату начала Специальной Военной Операции	А. 24 февраля Б. 2022 В. 2014 Г. 2016 Д. 23 февраля Е. 22 февраля	АБ 2.
13.	Какие территории были возвращены в состав Российской Федерации с 2014 по 2024 год?	А. Одесская область Б. Херсонская область В. Киевская область Г. полуостров Крым Д. Запорожская область Е. Луганская область Ж. Донецкая область	ЕЖ 2
14.	Каким образом обеспечивается уменьшение болевого симптома при травмах во время оказания первой помощи?	А. Иммобилизацией Б. Наложением тепла В. Уколом обезболивающего Г. Наложением холода	ВГ 1

**Школьный этап всероссийской олимпиады школьников по ОБЗР
Ханты-Мансийский автономный округ – Югра, г. Мегион
2024-2025 учебный год
10-11 класс**

15.	 Определите тип и название гранаты	А. Ф-1 Б. Ф-2 В. РГО Г. Оборонительная Д. Наступательная Е. Принудительная	Б В Д 1
16.	Какой лед наиболее прочен?	А. Белого цвета Б. Имеющий синеватый оттенок В. Матового цвета Г. С зеленоватым оттенком	В Г 1
17.	Какое время суток наиболее благоприятно для любой работы?	А. С 8.00 до 12.00 Б. С 13.00 до 15.00 В. С 16.00 до 18.00 Г. С 19.00 до 21.00	Б В А 0
18.	Из перечисленного выберите действия, в случае если ураган, смерч застал Вас на открытой местности:	А. Бежать домой Б. Быстро укрыться в ближайшем подъезде и т.п. В. Сообщить по телефону в службу спасения Г. Спрятаться под деревьями. Д. Остерегаться порванных электрических проводов	Б В Д 0
19.	Какие действия необходимо выполнить для оказания первой помощи при укусе гадюки в ногу?	А. наложить жгут выше места укуса Б. наложить давящую повязку В. сделать надрез в месте укуса Г. прижечь место укуса Д. выполнить иммобилизацию пострадавшей конечности	Б Д 2
20.	Из перечисленных явлений природы атмосферными вихрями являются:	А. смерч Б. бриз В. буря Г. торнадо	А Г 2
Итого:			34 балла 17

Каждый правильный ответ 1 балл. Сумма баллов 34.

**Школьный этап всероссийской олимпиады школьников по ОБЗР
Ханты-Мансийский автономный округ – Югра, г. Мегион
2024-2025 учебный год
10-11 класс**

Задание №1. 3 мая 2024 г. Министерство здравоохранения внесло изменения в последовательность оказания первой помощи.

Запишите цифрами новую верную последовательность.

1. Проведение обзорного осмотра пострадавшего (пострадавших) для выявления продолжающегося наружного кровотечения.
2. Проведение оценки обстановки и обеспечение безопасных условий для оказания первой помощи.
3. Проведение сердечно-легочной реанимации и поддержание проходимости дыхательных путей.
4. Проведение подробного осмотра и опроса пострадавшего (при наличии сознания) для выявления признаков травм, ранений, отравлений, укусов или ужаливаний ядовитых животных, поражений, вызванных механическими, химическими, электрическими, термическими поражающими факторами, воздействием излучения, и других состояний, угрожающих его жизни и здоровью.
5. Вызов скорой медицинской помощи (если вызов скорой медицинской помощи не был осуществлен ранее).
6. Оказание помощи пострадавшему в принятии лекарственных препаратов для медицинского применения, назначенных ему ранее лечащим врачом.
7. Придание и поддержание оптимального положения тела пострадавшего.
8. Определение наличия признаков жизни у пострадавшего.
9. Выполнение мероприятий по оказанию первой помощи пострадавшему в зависимости от характера травм, ранений, отравлений, укусов или ужаливаний ядовитых животных, поражений, вызванных механическими, химическими, электрическими, термическими поражающими факторами, воздействием излучения, и других состояний, угрожающих его жизни и здоровью.

45

Ответ:									
1.	2.	3.	4.	5.	6.	7.	8.	9.	
2	8	1	5	4	2	3	6	9	
2	0	0	0	2	0	0	0	0	0

Каждый верный ответ 2 балла. Сумма баллов 18.

Задание №2. Определите площадь ожога.

У первого пострадавшего ожог всей правой руки, левой ладони и передней части туловища без паховой области.

У второго пострадавшего ожог распространяется на всю заднюю поверхность туловища, паховой области и задние части ног.

05

1 пострадавший: $\frac{28}{100}$ %
2 пострадавший: $\frac{37}{100}$ %







Каждый правильный ответ 5 баллов. Сумма баллов 10.

**Школьный этап всероссийской олимпиады школьников по ОБЗР
Ханты-Мансийский автономный округ – Югра, г. Мегион
2024-2025 учебный год
10-11 класс**

Задание №5.1 Сопоставьте изображение с названием.

Ту-160, Тайфун-К, ПФМ-1 «Лепесток», АК-74, Герань-2, Ту-95МС, МОН-50, АК-12, Ланцет, Т-90МС, БТР-82АМ

105.

		<p>Ту-95МС 1</p>
		<p>ПФМ-1 1</p>
		<p>БТР-82 1</p>
		<p>Т-90МС 1</p>
		<p>Тайфун-К 1</p>
		<p>Ланцет 1</p>